

SEŠTEVANJE IN ODŠTEVANJE DO 20

1. Izračunaj.

$11 - 4 = \underline{\quad}$

$4 + 15 = \underline{\quad}$

$14 - 8 = \underline{\quad}$

$2 + 9 = \underline{\quad}$

$8 + 8 = \underline{\quad}$

$17 - 8 = \underline{\quad}$

$17 + 3 = \underline{\quad}$

$16 - 7 = \underline{\quad}$

$15 - 5 = \underline{\quad}$

$20 - 17 = \underline{\quad}$

$7 + 4 = \underline{\quad}$

$13 - 7 = \underline{\quad}$

$18 - 9 = \underline{\quad}$

$20 - 2 = \underline{\quad}$



$6 + 6 + 2 = \underline{\quad}$

$9 + 6 + 3 = \underline{\quad}$

$5 + 10 - 4 = \underline{\quad}$

$15 - 7 + 9 = \underline{\quad}$

2. Dopolni. Upoštevaj puščice.



3. Dopolni.

PREDHODNIK	ŠTEVILO	NASLEDNIK
18		
	15	
13		
		11


4. Reši besedilne naloge.



Dedek Vane je spekel 16 piškotov. Vnuček Ažbe je pojedel 7 piškotov.

Koliko piškotov je ostalo dedku?

Slika:



Račun: _____

Odgovor: _____



Na hribu je rastle 11 smrek. Gozdarji so posekali 3 smreke.

Koliko smrek še raste na hribu?

Račun: _____

Odgovor: _____



Lan ima 6 žog. Jan ima 4 žoge več kot Lan.

Koliko žog ima Jan?

Račun: _____

Odgovor: _____