

PRIKAZ MNOŽIC

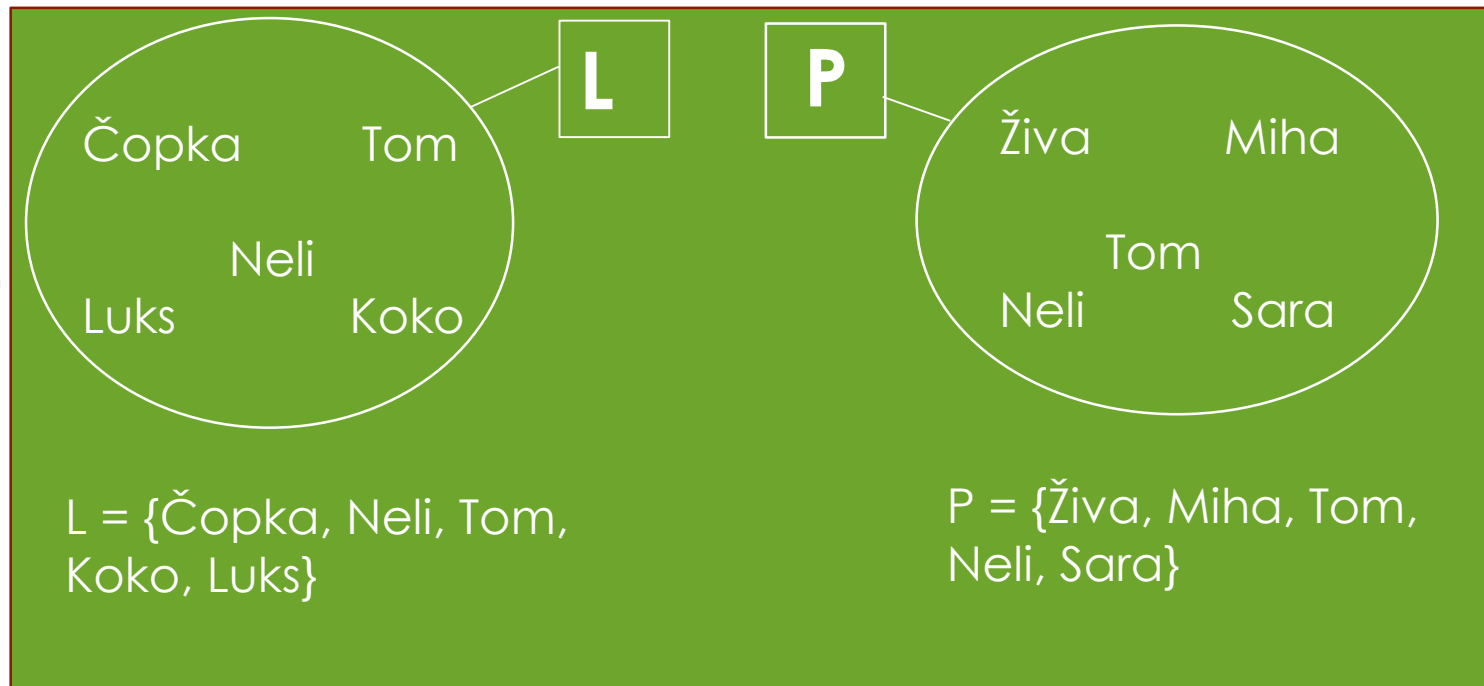
Sestavila: Anka Premrov

Vir: Radovednih 5

Tan in Vivian sta oblikovala vsak svojo množico lastnih imen.



Tan je oblikoval množico imen svojih hišnih ljubljencev.


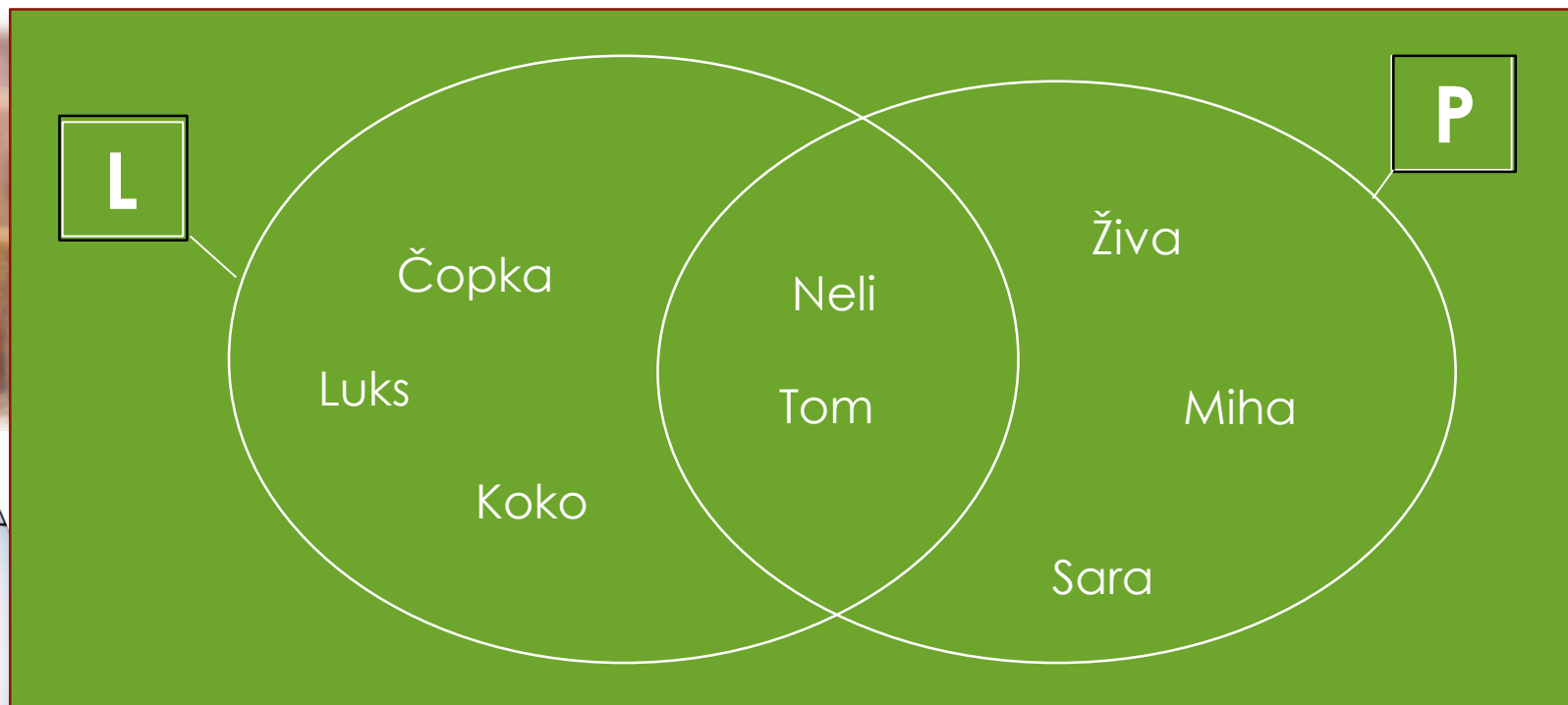


Vivian je oblikovala množico imen svojih prijateljev.

Odločila sta se, da bosta svoji množici prikazala na različne načine.

EULER – VENNOV DIAGRAM

Svoji množici sta najprej prikazala z EULER – VENNOVIM DIAGRAMOM.



Na sredino sta dala imeni, ki sta v obeh množicah.

CAROLLOV DIAGRAM

Svoji množici sta prikazala s CAROLLOVIM DIAGRAMOM.



	PRIJATELJ	PRIJATELJ
LJUBLJENČEK	Tom, Neli	Čopko, Luks, Koko
LIUBLJENČEK	Živa, Miha, Sara	



Člane svojih množic sta vpisala na pravo mesto v razpredelnico. Paziti sta morala na štiri lastnosti – prijatelj, ljubljjenček, ni prijatelj in ni ljubljjenček.

DREVESNI PRIKAZ

Potem sta množici prikazala z DREVESNIM PRIKAZOM.

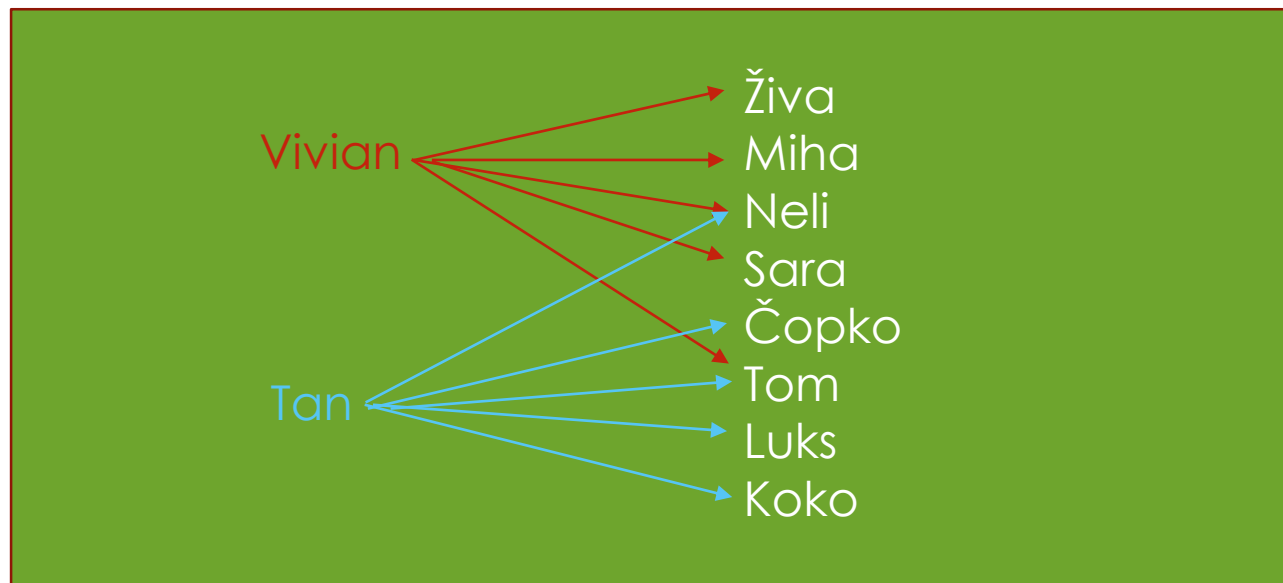


Člane svojih množic sta vpisala v obliko drevesa.



PUŠČIČNI PRIKAZ

Nazadnje sta izbrala PUŠČIČNI PRIKAZ, ki je najbolj redek.



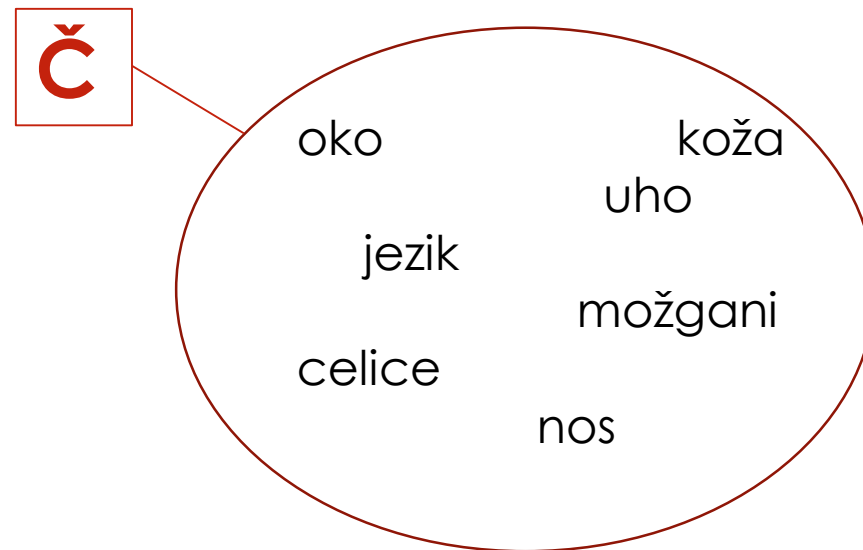
S puščičnim prikazom sta predstavila odnose med člani množic.

PREIZKUSI SE

Imaš množici pojmov, ki so povezani z dihali in čutili. Prikaži ju na načine, kot sta svoji množici prikazala Tan in Vivian. Nalogo nariši v zvezek za matematiko pod naslovom PRIKAZ MNOŽIC.



$D = \{\text{nos, sapnik, pljuča, pljučni mešički, celice, možgani}\}$



$\check{C} = \{\text{uho, oko, jezik, nos, možgani, celice}\}$

BRAVO

