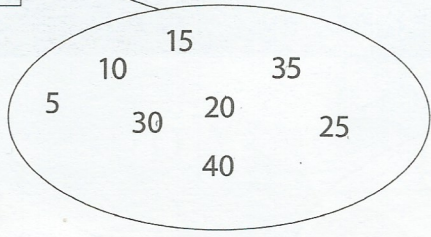


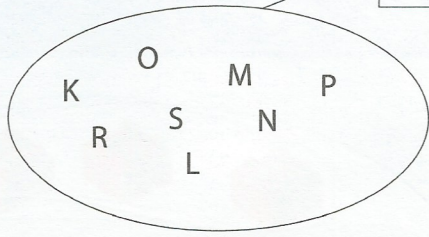


2. Zapiši člane množic A in B.

A



B

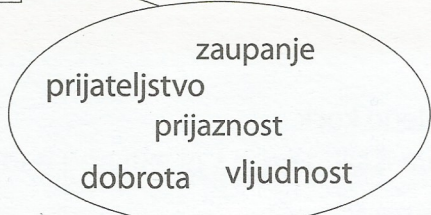


A = {5, 10, 15, 20, 25, 30, 35, 40}
B = {K, L, M, N, O, P, R, S}

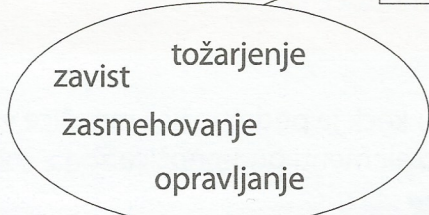
Kaj meniš, zakaj sta množici poimenovani s črkama D in S? Bi ju dopolnil še s kakšnimi člani? Zapiši jih.

3. Zapiši elemente množic D in S.

D *dobro*



S *slabo*



D = {zaupanje, prijateljstvo, prijaznost, dobrota, vljudnost}
S = {tožarjenje, zavist, zasmehovanje, opravljanje}




Množico D bi dopolnil s člani odgovornost, poštenost, iskrenost

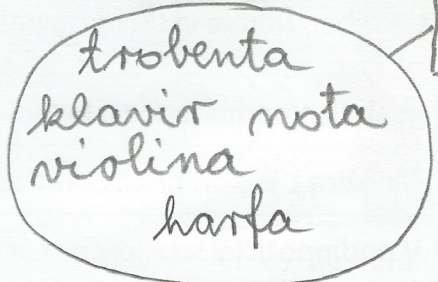
Množico S bi dopolnil s člani sovročnost, nestropnost, egoizem

4. Uvrsti naslednje elemente v množico športov Š in množico glasbil G: košarka, trobenta, klavir, nogomet, nota, žoga, atletika, violina, gimnastika, harfa. Množici nariši in spodaj zapiši njune elemente.

Š



G



Š = {košarka, nogomet, žoga, atletika, gimnastika}

G = {trobenta, klavir, nota, violina, harfa}