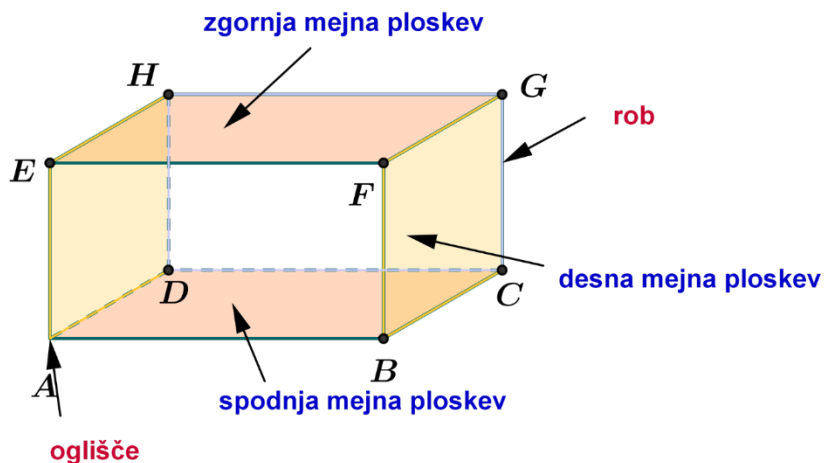


GEOMETRIJSKA TELESA


Lastnosti:

- zavzemajo prostor;
- izmerimo jim dolžino, širino in višino (tri dimenzije - 3D);
- imajo **oglišča**, **robove** in **mejne ploskve**.




Oglata telesa

- imajo vse mejne ploskve ravne;
- kocka, kvader, piramida;
- predmeti iz vsakdanjega življenja: opeka, omara, rubikova kocka, goba za brisanje table, tetrapak ...



Okrogla telesa

- imajo najmanj eno krivo ploskev;
- valj, krogla, stožec;
- predmeti iz vsakdanjega življenja: bobni, cevi, globus, žoga, kornet ...

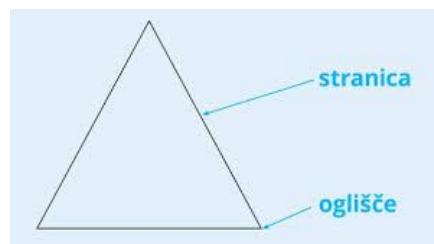


	KOCKA	KVADER
		
Robovi	12	12
Oglišča	8	8
Mejne ploskve	6	6
Velikost m. ploskev	vse enake	nasprotni enaki
Oblika m. ploskev	kvadrat	pravokotnik

GEOMETRIJSKI LIKI

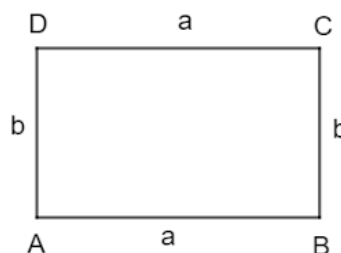
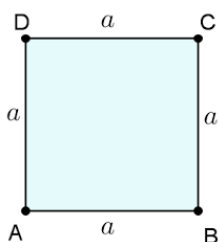
Lastnosti

- ravne ploskve;
- izmerimo jim dolžino in širino;
- imajo **stranice** in **oglišča**;
- pravokotnik, kvadrat, trikotnik, krog.



Kvadrat	Pravokotnik
	
štirikotnik	štirikotnik
4 pravi koti	4 pravi koti
4 stranice	4 stranice
4 oglišča	4 oglišča
nasprotni stranici vzporedni	nasprotni stranici vzporedni
sosednji stranici pravokotni	sosednji stranici pravokotni
vse stranice enako dolge	nasprotni stranici enako dolgi
vsak kvadrat je pravokotnik	vsak pravokotnik ni kvadrat

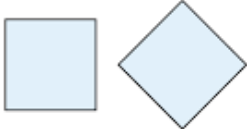
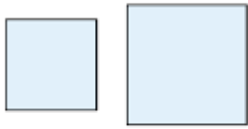
OZNAČEVANJE KVADRATA IN PRAVOKOTNIKA



SKLADNOST LIKOV

Lastnosti

- **enaka oblika in velikost;**
- **lahko sta različno obrnjena.**

Skladna kvadrata	Neskladna kvadrata
	

Naloge:

V DZ 3 preberi in reši strani **od 51 do 61**. Če želiš, lahko rešiš tudi **Zmorem tudi to**, stran 62.