

Utrjevanje in ponavljanje




1. Pobarvaj del lika, ki je zapisan z ulomkom.

zapis z ulomkom	$\frac{1}{2}$	$\frac{1}{3}$	$\frac{5}{8}$	$\frac{3}{4}$	$\frac{5}{5}$
lik					

2. Pod slike zapiši, koliko vode je v vsaki posodi.

Obkroži posode, v katerih je več kot $\frac{1}{4}$ l vode.



3. Na črte napiši, katero telo je opisano.

Ima 2 okrogli skladni mejni ploskvi. _____

Vseh 6 mejnih ploskev je kvadratnih. _____



Nasprotni mejni ploskvi sta skladni. Ima 8 oglišč. Ni kocka. _____

Ima 1 okroglo mejno ploskev. Spominja na kornet. _____

Nima ne robov ne oglišč. _____

Ima 1 kvadratno in 4 trikotne mejne ploskve. _____

4. Pravilno označi lika in zapiši dolžine njunih stranic.



a =

a =

b =

5. Reši besedilno nalogo.

V 4. a razredu je $\frac{1}{4}$ učencev naročenih samo na malico, $\frac{1}{7}$ učencev samo na kosilo, ostali pa so naročeni na malico in kosilo.

Koliko učencev je naročenih na malico in kosilo, če je v 4. a 28 učencev?

Odgovor: